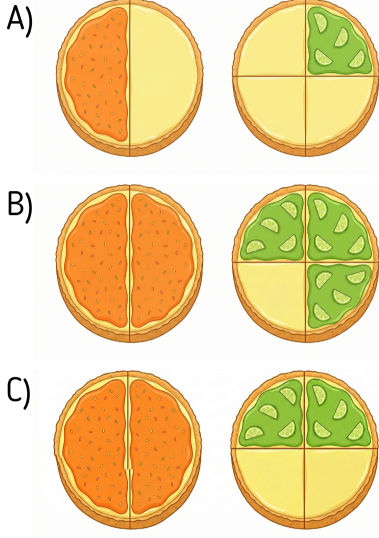




1-) Bir pasta şefi, hazırladığı dairesel kekleri öğrencilerine kesirleri öğretmek için parçalara ayırıyor.

Aşağıdaki tariflerden hangisinde bir bütünün "yarısı" ve "çeyreği" hatasız bir şekilde tarif edilmiştir?

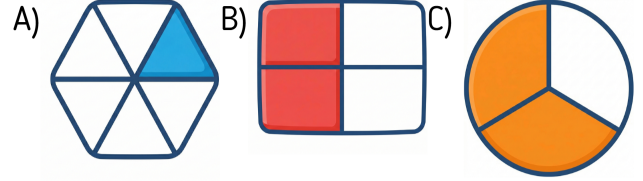


2-) Can, bir çikolata paketindeki 12 eş kareden 7 tanesini arkadaşlarına ikram etmek istiyor. Paketi açtığı anda 2 kare çikolatanın zaten yenmiş olduğunu görüyor.

Can'ın hedeflediği $\frac{7}{12}$ 'lik kesre ulaşabilmesi için kaç kare çikolatayı daha paketinden çıkarması gerekir?

- A) 8 adet daha çıkarmalıdır.
B) 5 adet daha çıkarmalıdır.
C) 9 adet daha çıkarmalıdır.

3-) Aşağıdaki şekillerden hangisi bir "birim kesre" örnek oluşturur?



4-)

Tahtada yazılı olan kesirleri inceleyelim.

Bu kesirlerden hangisinin okunuşu şıklarda yoktur?

- A) ikide bir B) dörtte üç C) dörtte alt

5-)

Bir sporcu, 10 eşit bölmeden oluşan koşu pistinin 4 bölmesini koşarak geçmiştir.

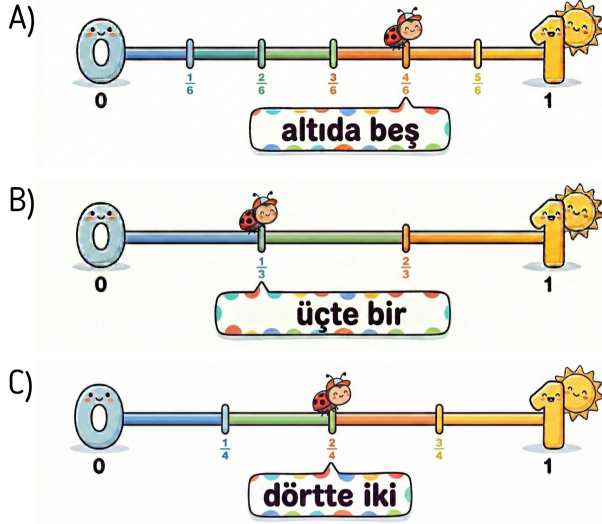
Pistin geri kalan, yani koşulmamış bölümünü gösteren kesir aşağıdakilerden hangisidir?

- A) $\frac{4}{10}$ B) $\frac{5}{10}$ C) $\frac{6}{10}$

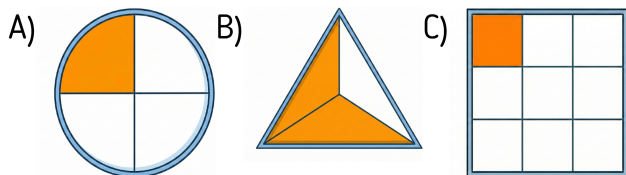


6-) Sayı doğrusu üzerinde 0 ile 1 arası farklı parçalara bölünerek kesirler işaretlenmiştir.

Aşağıdaki tariflerden hangisi bu gösterimlerde yapılan bir hatayı belirtir?



7-) Öğretmen, sınıf tahtasına çizdiği dört farklı şekilden üçünün "birim kesri" temsil etmesini istiyor. Aşağıdaki açıklamalardan hangisi öğretmenin bu kuralına uymaz ve birim kesri temsil etmez?



8-)



Yukarıdaki boyalı alanı anlatan kesir için yapılan yorumlardan hangisi hatalıdır?

- A) Bu kesrin doğru okunuşu "dokuzda bir" şeklindedir.
B) Bütün sekiz parçaya bölündüğü için paydası 8'dir.
C) Kesrin üst tarafındaki rakam, yani payı 1'dir.

9-)



Yukardaki saatin akşam saatlerini ifade eden dijital gösterimi aşağıdakilerden hangisidir?

A) 08.07

B) 19.35

C) 20.35



- 10-) Ece, hafta içi her gün kitap okuma sürelerini bir çizelgeye kaydediyor:

⇒ ECE'NİN KİTAP OKUMA ÇİZELGESİ ⇒

GÜN	BAŞLAMA SAATİ	BİTİŞ SAATİ
PAZARTESİ	17.10	18.25
SALI	18.10	19.15
ÇARŞAMBA	17.50	18.40
PERŞEMBE	18.20	19.45

Buna göre Ece'nin en uzun süre kitap okuduğu gün hangisidir?

- A) Salı B) Çarşamba C) Perşembe

- 11-) "Süper Kahramanlar" animasyon filmi saat 17.30'da başlıyor ve film bittiğinde salonun çıkışındaki saat 18.40'ı gösteriyor.

Arada hiç mola verilmediğine göre, bu animasyon filminin toplam süresi ne kadardır?

- A) 1 saat 10 dakika
B) 1 saat 20 dakika
C) 1 saat 15 dakika

- 12-) Mert, öğleden sonra saat 13.20'de kütüphaneye gitmek için evden ayrılıyor. Yolculuğu 35 dakika sürüyor. Kütüphanede ders çalışmak için 1 saat 20 dakika vakit harcıyor. Ders bittikten sonra 40 dakikalık bir yürüyüşle eve geri dönüyor.

Mert eve girdiğinde saat tam olarak kaç gösterir?

- A) 14.55 B) 15.25 C) 15.55

Cevap Anahtarı

1	A
2	B
3	A
4	C
5	C
6	A
7	B
8	A
9	C
10	C
11	A
12	C